

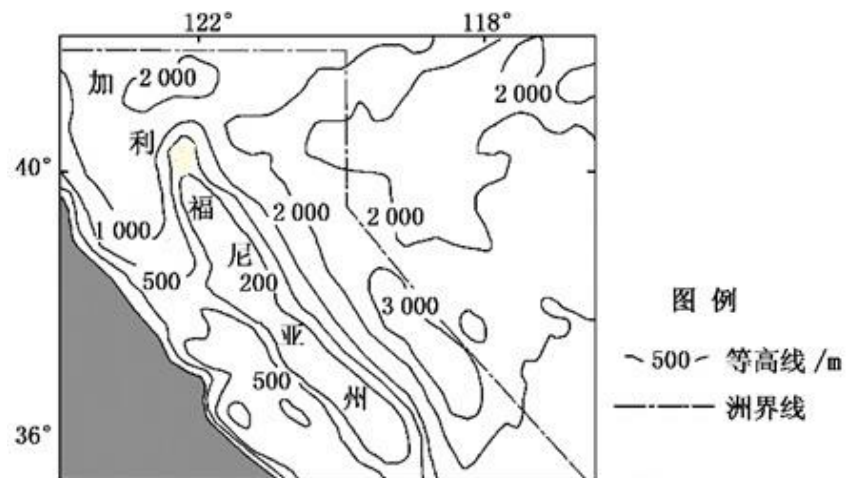
树德中学高 2019 级高三上学期 10 月阶段性测试文科综合试题

考试时间：150 分钟 满分：300 分 命题、审题：高三文综备课组

第 I 卷

一、选择题（每小题 4 分，共 140 分）

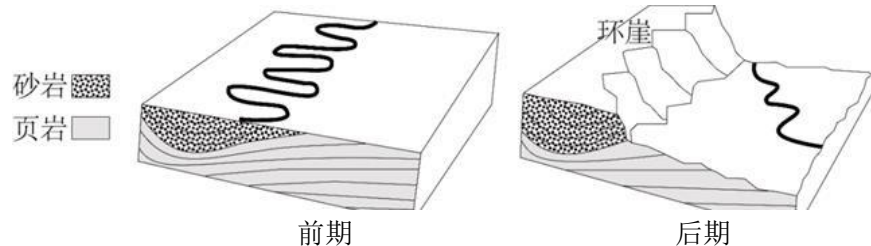
加利福尼亚州地势起伏较大，年平均降水量南北差距悬殊。多年来，加州老年人的居住生活具有在沿海与内陆之间呈季节性往返的规律。下图为加利福尼亚州北部等高线图，据此回答 1~2 题。



1. 加利福尼亚州降水南少北多的主要成因是
- A. 南部气温高蒸发强烈
  - B. 南部受西风带控制时间短
  - C. 南部受寒流控制降温减湿
  - D. 北部受暖流影响增温增湿

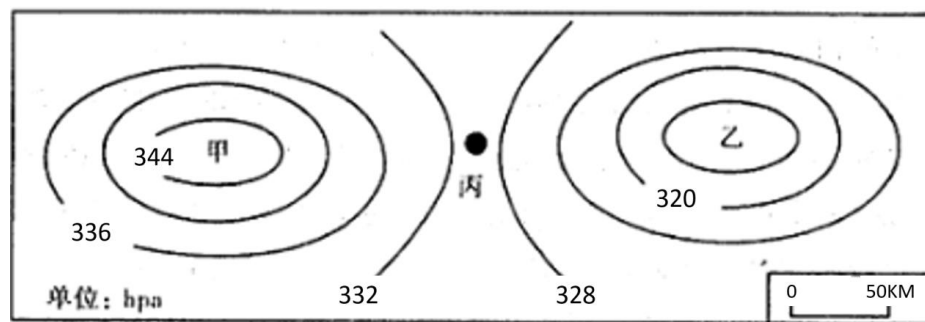
2. 加州老年人季节性往返的规律及原因是
- A. 夏季前往加州内陆居住，气候凉爽
  - B. 冬季返回沿海生活，阳光充足
  - C. 夏季前往沿海居住，空气湿润
  - D. 冬季返回内陆生活，空气清新污染小

环崖丹霞地貌以弧形环崖为特色，基岩由坚硬的红色砂岩和松软的页岩构成，其形成受地壳抬升和河流侵蚀的综合作用。下图为环崖丹霞地貌形成示意图，据此完成 3~5 题。



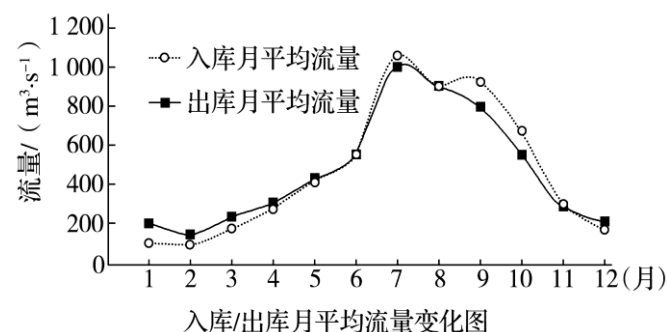
3. 地壳抬升前，该地
- A. 河道位置不易摆动迁移
  - B. 向斜构造使砂岩易破碎
  - C. 页岩受侵蚀程度小于砂岩
  - D. 页岩比砂岩形成时间晚
4. 地壳抬升后，砂岩和页岩的岩性差异导致河道
- A. 河曲发育
  - B. 定向侧移
  - C. 持续下切
  - D. 游移不定
5. 环崖呈现弧型主要是因为
- A. 曾经冰川作用形成
  - B. 页岩成环形崩塌形成
  - C. 前期河流形态在砂岩中发育而成
  - D. 砂岩与页岩之间不规则断裂而成

下图为鄱阳湖及周边某地区某时刻海平面与相应 5000m 高空等气压差图。据此完成 6~7 题



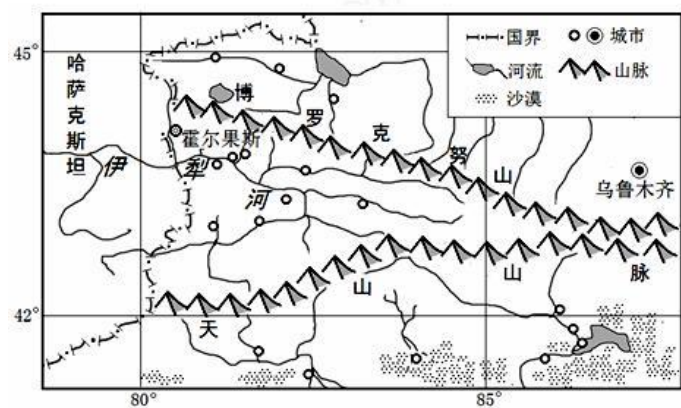
6. 此时乙地近地面气流状况最有可能为
- A. 顺时针辐合
  - B. 顺时针辐散
  - C. 逆时针辐合
  - D. 逆时针辐散
7. 若甲近地面为鄱阳湖面，图示时刻中丙处近地面的风向最可能为
- A. 西北风
  - B. 东北风
  - C. 东南风
  - D. 西南风

下图为“我国汉江流域某新修水库近年平均入库水量和出库水量变化图”。读图完成 8~9 题。



8. 该水库蓄水量最小的时间出现在
- A. 5 月
  - B. 7 月
  - C. 8 月
  - D. 11 月
9. 新修水库后对汉江流域的影响是
- A. 水库上游河道下蚀明显增加
  - B. 因库区蓄水汉江流域降水量减少
  - C. 降水增加、库区蒸发量减少
  - D. 水库下游河道砾石平均直径增大

站在伊犁河谷（下图）向南看，从海拔由高到低依次植被为亚高山草甸、针叶林、山地草原、荒漠草原，而向北看植被却有很大不同（右图），据此回答 10~11 题。



伊犁河谷北侧博罗克努山南坡植被分布示意图

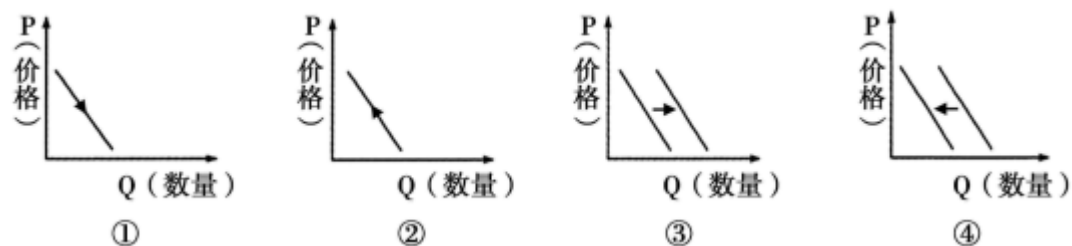
10. 伊犁河谷南北侧山地森林植被丰富度及成因是

- A. 北侧丰富 阳坡光热资源丰富      B. 南侧丰富 阴坡气温低蒸发弱  
C. 北侧丰富 西风迎风坡降水多      D. 南侧丰富 北冰洋水汽迎风坡

11. 图中博罗克努山山顶没有终年积雪带的原因是

- A. 基带纬度低      B. 山体海拔低      C. 山顶降水少      D. 山顶坡度大

12. 自2021年5月1日起,我国正式对生铁、粗钢、再生钢铁原料、铬铁等产品实行零进口暂定税率,促进再生钢铁原料进口便利化。在进口贸易中其他条件不变的情况下,该政策对我国和出口国的上述商品需求量的影响分别为



- A. ①②      B. ①③      C. ②④      D. ③④

13. 2021年6月,西部非洲国家经济共同体(ECOWAS)峰会宣布,将自2027年起发行统一货币,新货币被命名为“ECO”,届时该货币将取代目前在西共体中8个国家流通的西非法郎和另外7个国家各自的货币。下列对西共体国家统一发行并使用新货币认识正确的是

- ①新货币的基本职能比旧货币更多      ②新货币市场购买力由西共体统一规定  
③发行新货币应遵循货币流通规律      ④发行新货币有利于成员国间贸易发展  
A. ①②      B. ①④      C. ②③      D. ③④

14. 以习近平同志为核心的党中央高度重视非公有制经济健康发展,强调坚持权利平等、机会平等、规则平等,激发非公有制经济活力和创造力。为此,我们要

- ①严惩侵犯民企权益的各类犯罪,降低企业经营的隐性成本  
②加大力度优先发展民营经济,切实保障民营企业合法权益  
③依法维护公平竞争的市场秩序,支持民营经济参与市场竞争  
④大力发展战略性新兴产业,推动科技进步,保障国家安全  
A. ①②      B. ①③      C. ②④      D. ③④

15. 由于掌握市场信息的渠道有限、对真伪信息的辨别能力不足,一些农户盲从市场,导致无论是田间丰产还是歉收,或是市价涨跌,都容易“受伤”,而农民专业合作社的建立极大提升了农户参与大市场的能力。农民专业合作社的作用机制是

- A. 克服市场盲目性→稳定市场价格→增加农民收入  
B. 有效组织农户→共同抵御市场风险→实现最佳收益  
C. 瞄准市场需求→培育新型农业经营主体→保障农民财产权益  
D. 整合农村资源→加快土地承包权流转→完善农村集体经济运行机制

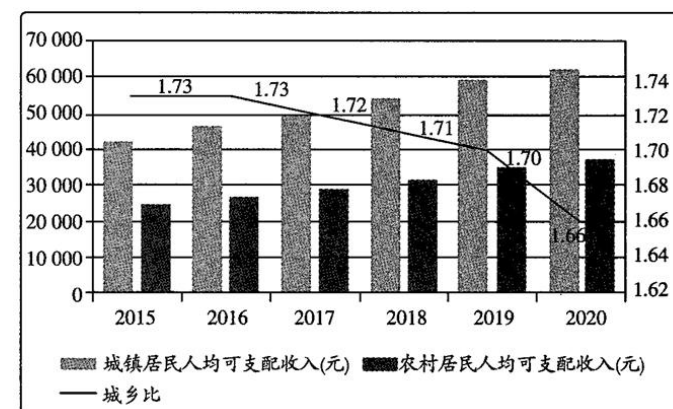
16. 工业生产者出厂价格指数(PPI)是衡量工业企业产品出厂价格变动趋势和变动程度的指数。经历了2020年的疫情冲击与世界经济整体下滑的影响,2021年上半年我国PPI同比与环比均实现较大幅度的上涨。不考虑其他因素,PPI恢复性上涨对我国经济发展作用的传导路径是

- ①生产规模扩大劳动力需求增加②生产型企业获利空间增加  
③企业家投资信心和积极性增强④经济下行的压力得以缓解  
A. ①→③→④→②      B. ②→④→①→③  
C. ②→③→①→④      D. ②→①→④→③

17. 倾斜保护原则是指劳动法倾斜保护劳动者的合法利益。下列选项未能在劳动立法上体现劳动者倾斜保护理论的是

- A. 偏重于规定劳动者的权利和用人单位的义务  
B. 规定用人单位解除合同的限制条件  
C. 规定劳动标准制度  
D. 规定用人单位的用工自主权

18. 下图为2015年—2020年国内某市城乡居民人均可支配收入情况。



注:城乡比,即城乡居民人均可支配收入比(以农村居民为1)。不考虑其他因素,下列对图表信息解读正确的是

- ①该市城乡总体消费水平会持续提高      ②该市经济与国家的整体差距在缩小  
③该市在全国率先实现了农业现代化      ④该市促进协调发展取得了积极成效  
A. ①③      B. ①④      C. ②③      D. ②④

19. 2021年7月10日,国家市场监督管理总局发布《市场监管总局关于禁止虎牙公司与斗鱼国际控股有限公司合并案反垄断审查决定的公告》。公告指出,经评估,根据《反垄断法》第二十八条和《经营者集中审查暂行规定》第三十五条规定,市场监管总局决定依法禁止二者合并。市场监管总局的决定旨在

- ①预防垄断行为,促进公平竞争      ②充分发挥政府在资源配置中的决定性作用  
③规范经济秩序,激发市场活力      ④消除市场调节弊端,化解经济运营风险  
A. ①②      B. ①③      C. ②④      D. ③④

20. 在当前全球市场萎缩,外部环境不确定性增加的情况下,我国正加快形成以国内大循环为主体、国内国际双循环相互促进的新发展格局。某省以“一带一路”沿线国家为主体,发挥国际经贸合作机制作用,深化交流合作,推动双向投资、进口出口协调发展。发挥好境外重点展会,进博会、服贸会、东博会等国内重点展会作用,多层次、多元化开拓国际国内市场。这些举措有利于

- ①放宽市场准入,发挥我国在世界经济发展中主导作用  
②加快转变对外经济发展方式,推动建设开放型世界经济  
③推动开放朝着扩大出口的方向转变,推进贸易强国建设  
④统筹国际国内两个市场,进一步畅通国际与国内双循环  
A. ①②      B. ①③      C. ②④      D. ③④

21. 2020年10月22日《中华人民共和国个人信息保护法（草案）》全文公布，向社会公开征求意见。2021年8月20日，十三届全国人大常委会第三十次会议表决通过了《中华人民共和国个人信息保护法》，自2021年11月1日起施行。这一立法过程

- ①将决策权移交给公众，保证了人民群众依法直接行使民主权利
- ②体现了我国公民的意志，具有鲜明的时代印记，有利于捍卫个人信息安全
- ③能保障广大公民对这一立法决策的知情权
- ④是公民通过社会公示制度参与民主决策的体现

A. ①②                      B. ①③                      C. ②④                      D. ③④

22. 2021年9月9日，湖南省天然气上下游价格联动机制听证会如期举行。此前，居民通过传真、邮寄、电子邮件或现场报名等方式申请参加听证，会上，消费者、经营者、专家代表等15人参加了听证，对于听证方案总体认可。湖南省发改委此举

- ①拓宽了公民政治参与渠道，推动了协商民主
- ②表明我国人民真实地拥有了当家作主的权利
- ③是公民通过社会听证制度参与民主监督
- ④体现了政府对涉及公共利益问题的合理关切

A. ①③                      B. ①④                      C. ②③                      D. ②④

23. K县试点推行“一周早知道”工作机制：每周提前公开村两委及干部工作事项，发布村级工程进度；每月定期公开上级政策文件、村级财务支出、月度工作考核排名通报等，并通过村务钉钉群、微信群线上晒单。推行该工作机制有利于

- ①主动接受群众监督，提高村民自治实效
- ②完善基层民主自治，维护村民切身利益
- ③增强村务管理的透明度，杜绝工作失误
- ④拓宽群众参与途径，规范行政权力运行

A. ①②                      B. ①③                      C. ②④                      D. ③④

24. 在四川广汉三星堆遗址出土的文物中，青铜尊、青铜罍以及玉璋、玉琮等与黄河流域出土文物类型相似。同时，三星堆新发现的黄金面具与成都金沙遗址出土的黄金面具存在高度相似性。这说明

- A. 跨区域间文化交流频繁
- B. 考古发掘能够如实还原历史
- C. 社会等级分化初步显现
- D. 中华文明具有多元一体特征

25. 据史料记载商周时期国君被放逐的事例很多，著名的如伊尹将太甲放之于桐宫，国人暴动使厉王出奔于彘等。对于这些情况时人不以为怪，周王后裔王子朝对周厉王被逐事曾直言不讳地说：“至于厉王，王心戾虐，万民弗忍，君王于彘。”这反映了当时

- A. 保留原始民主遗风
- B. 尚未实现权力高度集中
- C. 周王室有仁德之心
- D. 分封宗法制的逐渐崩溃

26. 《诗经》中的《风》所涉地域包括今陕西到山东的许多地区。同《楚辞》极强的地域性相比，《风》则显示出文化风格的一致性。这一差异主要源于

- A. 二者的表现手法存在差异
- B. 政治文化辐射程度差异
- C. 分封制在南北方影响不同
- D. 南北经济活动方式不同

27. 战国时期，井田废、阡陌开，激发了人对财富的欲求。由此而来的争战，使各诸侯国君经常处于亡国丧身的危机之中。这反映出战国时期

- A. 社会转型的加快
- B. 宗法分封的崩溃
- C. 兼并战争的频繁
- D. 重农抑商的确立

28. 芍陂是中国古代最早的大型水库，有学生收集了关于芍陂的记载，据此可以得出的正确结论是

记载内容	史料来源
楚大夫子思家在县东山乡西，去县四十里。子思造芍陂。	《皇览》（三国·魏刘劭等）
（王景）迁庐江太守。郡界有楚相孙叔敖所起芍陂稻田。景乃驱吏民，修起荒废。教用犁耕，由是垦辟倍多，境内丰给。	《后汉书·王景传》（南朝范曄）
有芍陂，楚孙叔敖所起。崔寔《月令》曰：“叔敖作期思陂”，即此。	《通典》（唐杜佑）

- A. 芍陂的兴修推动楚国经济发展
- B. 可确证芍陂为楚国所造
- C. 以上均为二手史料故都不可信
- D. 后世王朝多次修整芍陂

29. 秦将岭南以南的桂阳县划归长沙郡，同时将岭南以北的谭城划归岭南的象郡。秦如此划分的主要目的是

- A. 促进民族间的文化交流
- B. 推动岭南地区经济开发
- C. 开创犬牙交错地理区划
- D. 加强对岭南地区的控制

30. 西汉对诸侯王葬制有明确的规定，不轨的诸侯王死后不能使用玉衣。汉武帝时期，畏罪自杀的济北王刘宽死后就没有使用玉衣，草草下葬；中山靖王刘胜无不轨的行为，他死后得用金缕玉衣下葬。这主要体现了当时

- A. 郡县制基础的动摇
- B. 确立了思想上的统一
- C. 地方势力有效削弱
- D. 官营手工业技术发达

31. 首先是魏晋时期文人向往清静无为、回归自然；另一方面是汉末形成的“处士横议”之风，在魏晋之际演变为清议，并内化为文士的一种生活方式。影响魏晋士人言行的主要因素是

- A. 儒学地位的动摇
- B. 民族交融的加强
- C. 社会动荡的刺激
- D. 世家大族的提倡

32. 下图是新中国成立初期的一幅漫画。该漫画的寓意是



- A. 抗美援朝，构建社会主义阵营
- B. 反对霸权主义，维护地区和平
- C. 保家卫国，争取反法西斯胜利
- D. 建立政治同盟，抨击冷战政策

33. 下表是中国进出口贸易总额计划完成情况（单位：亿元）

进出口国别	时间	1950	1952	第一个五年计划时期				
				1953	1954	1955	1956	1957
总额合计		41.54	64.61	80.92	84.72	109.80	108.65	104.50
苏联及人民民主国家		13.94	52.50	62.44	69.39	90.16	81.60	77.00
其中：苏联		12.86	40.44	47.82	49.07	68.02	57.91	51.86
亚非及西方国家		27.60	12.11	18.48	15.33	19.64	27.05	27.50
其中：西方国家		14.87	1.59	7.08	5.01	7.42	9.69	11.37

据表可知，当时中国

- A. 突破西方国家的经济封锁
- B. 完成了社会主义的工业化
- C. 实行全方位对外开放政策
- D. 调整了与苏联的外交政策

34. 漫画《大豆过江》，画中标注“此画为1958年秋江苏农民朱会然和华君武合作完成”，配诗“叶作风帆荚作船，长江飞渡若云烟；出身豆类成大器，家在东吴试验田。”该漫画反映出

- A. 农业生产关系调整成效显著
- B. 八大经济建设方针得到落实
- C. 社会主义建设中的热情高涨
- D. 农村生产力水平的巨大提高



35. 20世纪80年代，红豆企业一度濒临倒闭，但是自1992年红豆成立集团，企业发展形势大好。至今，集团有十三家子公司，拥有美国纽约、洛杉矶两个境外分公司。红豆的崛起主要得益于

- A. 产业结构日益趋于合理
- B. 社会主义市场经济体制建立
- C. 人们消费观念发生变化
- D. 国内经济环境得到不断优化


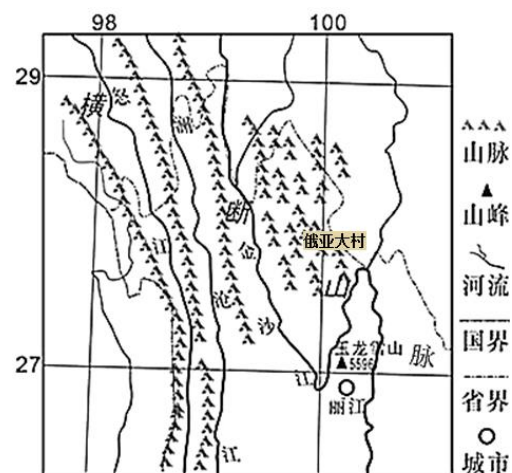
### 第II卷

#### 二、非选择题（共160分）

##### （一）必做题（7小题，共135分）

36. 阅读图文材料，完成下列问题。（24分）

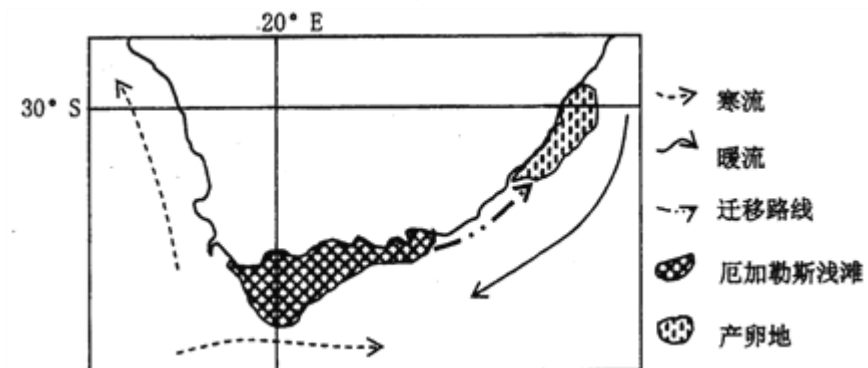
俄亚大村位于横断山腹地的四川木里藏族自治县的高山峡谷（下图左），全村200多户人家的房屋采用“平顶碉楼”模式依山而建（下图右），村庄小巷纵横，碉楼一般两到三层楼，置身其中往往找不到北。平顶为当地人开辟了活动空间。



- (1) 描述该地区高山峡谷的形成过程。（6分）
- (2) 受当地地形的影响，流经俄亚大村所在峡谷后河流的水量也没有明显增加，对此进行解释。（6分）
- (3) 说明置身该村庄容易迷路的原因。（6分）
- (4) 分析与我国南方平原地区相比，这里房屋采用平顶的理由。（6分）

37. 阅读图文材料，完成下列问题。（22分）

沙丁鱼喜冷水，水温14—20摄氏度是它们最喜欢的温度范围，好群居，以大量的浮游生物为食。厄加勒斯浅滩是南半球沙丁鱼的主要集聚地。每年5月到7月间，数以十亿计的沙丁鱼从非洲最南端厄加勒斯浅滩一路向北迁徙到南非第三大城市德班附近海域。这一壮观景象吸引了无数游客。



- (1) 说明厄加勒斯浅滩成为南半球沙丁鱼主要集聚水域的原因（6分）
- (2) 说明游客选择1、2月到厄加勒斯浅滩海域潜水观赏沙丁鱼的理由。（10分）
- (3) 分析5-7月沙丁鱼迁徙到南非第三大城市德班海域的原因。（6分）

38. 集成电路行业作为全球信息产业的基础，已逐渐成为衡量一个国家或地区综合竞争力的重要标志和地区经济的晴雨表。阅读材料，完成下列要求。（16分）

材料一 2015年—2020年我国集成电路产业快速发展，如下图所示：



注 2020年我国集成电路相关企业已超过3000家，绝大多数企业规模不大，在产品研发上尚未摆脱跟随和模仿。

材料二 集成电路产业是引领新一轮科技革命和产业变革的关键力量。

2014年6月,国务院印发《国家集成电路产业发展推进纲要》	2014年9月,在国家工信部、财政部指导下设立国家集成电路产业投资基金(一期)股份有限公司;2019年10月,设立国家集成电路产业投资基金(二期)股份有限公司。
	两期共撬动社会资本超1万亿元,覆盖集成电路全部产业链,,推动龙头企业做大做强;加快对研发核心设备及关键零部件的投资布局,重点向上游国产装备和材料领域倾斜。
2020年8月,国务院印发《新时期促成集成电路产业和软件产业高质量发展的若干政策》	聚焦高端芯片、集成电路装备和工艺技术、关键材料等关键核心技术研发,探索构建社会主义市场经济条件下关键核心技术攻关新型举国体制;推进集成电路产业和软件产业集聚发展,支持信息技术服务产业集群、支持软件产业园区特色化、高端化发展。
2021年3月,十三届全国人大四次会议通过《规划纲要》	《中华人民共和国国民经济和社会发展第十四个五年规划和2035年远景目标纲要》主要阐明国家战略意图,明确政府工作重点,指出集成电路等重点领域被纳入战略性国家重大科技项目规划。

(1) 简要概括材料一蕴含的经济信息。(4分)

(2) 结合材料二并运用社会主义基本经济制度的知识,说明我国是如何推动集成电路产业发展的。(12分)

39. 阅读材料,完成下列要求。(24分)

2021年8月17日,习总书记在中央财经委员会第十次会议上发表重要讲话强调,共同富裕是社会主义的本质要求,是中国式现代化的重要特征,要坚持以人民为中心的发展思想,在高质量发展中促进共同富裕。

材料一:浙江省在高质量发展进程中扎实推进共同富裕示范区建设,把党的领导贯穿推动浙江高质量发展建设共同富裕示范区的全过程、各领域、各环节。大力提升自主创新能力,加快探索社会主义市场经济条件下新型举国体制开展科技创新的浙江路径。巩固壮大实体经济根基,塑造产业竞争新优势,对企业创新实施融资畅通工程等一系列惠企政策,促进劳动生产率的提高,持续扩大全社会财富总量。通过加强土地流转并运用数字化技术大规模发展种植养殖业等,补齐三农短板,实现农民增收。深度推进“山海协作”,通过财政帮扶、平台搭建等加快扶持欠发达地区,促进区域协调发展,扎实推进基本公共服务均等化。建立健全“先富带后富”机制,建立健全回报社会的激励机制,鼓励引导高收入群体和企业家向上向善、关爱社会,全面打造“善行浙江”。

(1) 结合材料一,运用《经济生活》有关知识,说明浙江是如何在高质量发展进程中扎实推进共同富裕示范区建设的。(12分)

材料二 改革开放30多年来,我国居民收入大幅增长,但贫富差距过大的矛盾也日益突出,调整收入分配、缩小贫富差距的呼声此起彼伏。因调整方案不明朗,引发了部分“富人”的担心与焦虑,他们急着转移财富,甚至移民境外。收入分配问题本身十分复杂,涉及面很广,大家看问题的角度以及各自拥有的分析资料不同,对收入分配改革的认知度不同,所以各部门之间存在不同看法,而在调整过程中,不同群体、不同领域受益或受损的程度不同,因此所持立场也不一样。当然主要是由于改革方案出台会对现行的利益关系进行调整,那些既得利益群体必然不满意,成为方案出台和实施的巨大阻力。

(2) 结合材料二,用政治生活知识回答如何使收入分配改革措施让更多群众满意。(12分)

40. 阅读材料,完成下列要求。(12分)

2021年9月2日-7日,中国国际服务贸易交易会全球服务贸易峰会在北京召开。本届服贸会打造高水平开放平台,突出展示了数字贸易、5G通讯、工业物联网、智慧办公、区块链创新等新业态新模式。推动形成以国内大循环为主体、国内国际双循环相互促进的新发展格局,是重塑我国国际合作和竞争新优势的战略抉择。打造新发展格局,要牢牢把握国内大循环这个主体,紧紧扭住供给侧结构性改革这条主线,注重需求侧管理形成需求牵引供给、供给创造需求的更高水平动态平衡;增加就业,合理增加公共消费;减轻居民在教育、医疗、养老、育幼等公共服务方面的负担;加快新基建建设布局一批大科学装置和大试验平台为代表的创新基础设施;进一步发挥市场和政府的作用,引导生产、分配、交换、消费等作出有效制度安排。

结合材料,运用经济生活知识分析如何推动形成国内大循环为主体、国内国际双循环相互促进的新发展格局?(12分)

41. 阅读材料,完成下列要求。(25分)

材料一 历代统治者为了巩固自身统治,制定并实施治理边疆的政策,以实行有效的管理。两汉时期,在边疆设立了众多郡县和属国,又在辽阔的西北边疆地区设立西域都护府,管理民政、军政等事务。为了维护边疆地区的稳定,唐王朝确立了军镇屯戍制度,军镇兵力多则数万,少则数千。唐朝政府安排边疆民族子弟学习汉族文化,并将众多汉文经典书籍颁赐给边疆民族。元代,在边疆设立了宣慰司,“有招讨、安抚、宣慰等使,品秩员数,各有差等”;任用大量土官,因俗而治;建立了从首都行政中枢到遥远边疆地区的驿站制度。清代,雍正皇帝在西南地区推行“改土归流”。乾隆皇帝表示:“蒙古、汉人,同属臣民。”清政府对蒙古等少数民族的上层采用封爵、给俸、年班朝觐和联姻等政策。

——摘编自马大正《中国古代的边疆政策与边疆治理》

材料二 从古至今,少数民族就是边疆地区安全稳定的重要依托,中国自汉代以来的历代中央王朝都比较重视民族工作。稳定边疆可谓是国家治理的关键内容,牵一发而动全身,所以加强边疆治理体系与治理能力现代化建设是非常必要的。中国边疆治理体系是在党领导下管理边疆的一系列制度体系,包括各领域体制机制和法律法规安排。

——据柏桦《中国政治制度史》等改编

(1) 依据材料一并结合所学知识,概括中国古代治理边疆的特点,并分析其意义。(12分)

(2) 依据材料二并结合所学知识,指出新中国成立后为“加强边疆治理体系与治理能力”而确立的重要制度,并简要评析该制度。(13分)

42. 阅读材料，完成下列要求。(12分)

以下是卜正民教授领衔主编《哈佛中国史》(全六卷)的分卷书目:

卷目	书名
第一卷	早期中华帝国: 秦与汉
第二卷	分裂的帝国: 南北朝
第三卷	世界性的帝国: 唐朝
第四卷	儒家统治的时代: 宋的转型
第五卷	挣扎的帝国: 元与明
第六卷	最后的中华帝国: 大清

根据材料并结合所学知识, 请选择任一分卷, 为该分卷写一个内容简介。(要求: 史论结合, 逻辑清晰, 不少于 200 字。)

(二) 选做题 (共 25 分) (注: 地理 43 题, 历史 44 题)

43. 【地理—选修 3: 旅游地理】阅读图文材料, 回答下题。(10 分)

黑龙江宁安市渤海镇小朱家村的石板大米是中国正史记载中比较早的贡米, 生长在亿万年前火山喷发形成的熔岩石上, 石板上土壤的厚度约为 10-30 厘米, 是经过亿万年的岩石风化和沉积而形成的土壤。近年来, 小朱家村连续多年创办“渔猎文化节”, 展示传统民俗文化, 每届吸引近万名游客争相前往, 极大地加强了了石板大米的品牌效应。



(1) 随着旅游业的发展小朱家村石板大米销量越来越大, 试分析石板大米营养价值高的原因。(4 分)

(2) 从旅游体验的角度看可以设计哪些旅游活动来增加游客对小朱家村石板大米的了解 (6 分)

44. 中外历史人物评说

阅读材料, 回答问题 (15 分)

材料 郦道元(约 470-527)字善长。汉族、范阳涿州(今河北涿州)人。北朝北魏地理学家、散文家。仕途坎坷, 终未能尽其才。他博览奇书, 幼时曾随父亲到山东访求水道, 后又游历秦岭、淮河以北和长城以南广大地区, 考察河道沟渠, 搜集有关的风土民情、历史故事、神话传说, 撰《水经注》四十卷。郦道元不仅是一位著名的地理学家, 还是一个渴望祖国统一的家国主义者。通过对《水经注》的研究, 我们可以获悉他的许多高尚思想和高贵品质。依靠他严谨、科学的治学方法和高度的写作技巧, 《水经注》成为一部文字生动、内容丰富的不朽历史名著。历来学者对此书的不断研究, 终于形成了一门包罗宏富的世界性学问——“郦学”, 这就是郦道元为后世留下的一宗宝贵的文化财富。

——摘编自陈桥驿《郦道元评传》

(1) 根据材料并结合所学知识, 简析郦道元《水经注》成书的时代背景。(7 分)

(2) 根据材料并结合所学知识, 概括郦道元具有的优秀品质。(8 分)

## 树德中学高 2019 级高三上学期 10 月阶段性测试文科综合试题参考答案

### 地理部分

1. B 南部地区受副热带高压和盛行西风带交替控制, 年平均降水量相对较少; 北部地区常年受盛行西风带控制, 年平均降水量较多。
2. A 加州地区由沿海到内陆地势逐渐升高, 以地中海气候为主; 夏季, 沿海地区气候炎热干燥, 而内陆地区地势较高, 气候凉爽; 冬季, 沿海地区气候温和湿润, 而内陆地区地势较高, 气候较为湿冷
3. C 从图中可以看出, 地壳抬升前, 该地河道弯曲, 位置容易摆动迁移, A 错误; 背斜构造使砂岩张裂破碎, B 错误; 河流位于砂岩上, 页岩受侵蚀程度小于砂岩; 页岩比砂岩形成时间早, C 正确。
4. B 从图中可以看出, 页岩受侵蚀程度小于砂岩, 地壳抬升后, 砂岩和页岩岩性差异, 河流会对岩层进行侧向侵蚀, 相对较软的页岩逐渐被侵蚀掉, 而坚硬的砂岩还存在, B 正确。河曲发育是河流侧蚀形成, 并不是岩性不同造成的; 持续下切主要发生在河流上游地形起伏较大的地区或者地壳的持续抬升造成; 河曲发育造成河道游移不定。
5. C 从图中可以看出, 环崖是呈规则的. 环形, 环崖是弧型主要是因为前期曲流形态在砂岩中发育而成, 后期河流溯源侵蚀砂岩形成, C 正确。环崖是弧型是比较规则的, 不是砂岩与页岩之间不规则断裂而成。
6. C 近地面和高空气压差越大, 则近地面气压越高, 据图所示, 甲近地面为高压乙近地面为低压, 北半球逆时针辐合; C 正确
7. A 丙地近地面风由高压吹向低压, 北半球向右偏转, 形成西北风。
8. A 图示信息从十一月到次年五月, 水库出库流量一直大于入库流量, 在此期间水库一直处于水量减少状态, 之后开始增加 A 正确
9. D 修水库水位抬升和上游间落差减小, 河道下蚀减轻, A 错。水库对汉江流域降水量影响不明显 B 错。水库的修建加大水面, 增加库区的蒸发量 C 错。新建水库后落差增大, 冲刷水库下游河道把原来颗粒较小的沉积物侵蚀搬运走, 剩下的颗粒较大的沉积物, D 对
10. C 结合图文描述, 北侧森林植被更丰富, 原因是北侧处于来自于大西洋的盛行西风的迎风坡, 降水丰富, 森林类型多, 面积大, 森林植被丰富。C 正确。
11. B 当地纬度在北纬 42 到 45 度之间, 纬度较高; 从图中看, 该山山顶海拔仅 2000 多米, 不足以形成终年积雪带, B 正确。
36. (1) 亚欧板块和印度洋板块挤压 (2 分), 地壳抬升 (2 分), 形成高山; 流水侵蚀 (下切侵蚀) (2 分), 形成峡谷
- (2) 高山阻挡夏季风进入, 降水少 (2 分); 高山约束, 缺少支流汇入, 该河段的流域面积小 (2 分); 焚风效应显著, 气温高, 蒸发强 (2 分)。
- (3) 小巷纵横, 道路复杂 (2 分); 建筑风格一致, 缺少参照物 (2 分); 高山和高大碉楼阻挡阳光, 视野有限, 方向感差 (2 分)
- (4) 降水少, 排泄雨水的压力小 (2 分); 地势起伏大, 平顶利于晾晒农作物 (2 分); 利于扩大人的活动空间 (2 分)
37. (1) 西风漂流影响, 水温低 (2 分); 海水浅, 阳光可以射入海底, 光合作用强, 浮游植物多, 营养物质丰富 (2 分); 浅滩面积大, 生存空间广阔 (2 分);
- (2) 1、2 月沙丁鱼在这里聚集, 数量多, 密度大, 容易观赏 (2 分); 副热带高压控制, 多晴天, 海水能见度高, 利于观赏 (2 分); 夏季昼长, 正午太阳高度角大, 海底光线好, 利于观赏 (2 分); 夏季水温高, 适合潜水观赏 (2 分); 海域风浪小, 观赏安全性高 (2 分); 白昼长, 观赏时间长 (2 分) (答对其中任意 5 点给 10 分)
- (3) 5-7 月是当地冬季, 德班附近海域水温低 (2 分); 西风漂流北移, 沿着海岸线向北运动, 降低了德班附近海域水温 (2 分); 当西风漂流与南下的暖流交汇, 搅动起深海的营养物质 (2 分)

43. (1) 火山石板上土壤肥厚, 矿物质、有机质、微量元素极为丰富 (2 分); 纯净的镜泊湖水灌溉, 水质纯净清澈无污染 (2 分); 玄武岩将白天所蓄之热在夜间不断释放, 积温高而均衡, 水稻吸收营养充分, 成熟度高 (2 分)。(答对其中两点给 4 分)

(2) 建设熔岩台地稻田观光主题公园, 在熔岩台地上建起观光台、水车、玻璃栈道、木栈道和观光长廊, 让更多游客切身感受“中国火山岩稻米”的生长环境 (2 分); 组织游客前来感受美丽乡村, 进行农事体验、了解石板大米的生长生产过程 (2 分); 发展农家乐, 吃农家饭, 让游客体验石板大米的口感 (2 分)。

### 政治部分

12——23 BDBBC DBBCD DA

38 (1) 材料一表明 2015 年以来我国集成电路进出口金额逐年增加, 存在贸易逆差且不断扩大; 说明我国集成电路产业虽然快速发展, 但对外依存度较高, 企业自主创新能力不强。

(2) ①发挥国有经济的主导作用, 转变经济发展方式。调整集成电路产业布局, 优化产业结构与所有制结构, 增强产业竞争力。②充分发挥市场作用。引入市场机制, 优化资本、技术等资源的配置, 推动集成电路产业科技创新。③更好发挥政府作用。制定发展战略与规划, 为集成电路产业的发展提供宏观指导; 通过财政政策、货币政策与产业政策, 实施科学的宏观调控。

39. (1) ①党的领导是社会主义市场经济的重要特征。共同富裕是社会主义的本质要求, 是中国式现代化的重要特征, 要坚持以人民为中心的发展思想, 在高质量发展中促进共同富裕。②效率是公平的物质前提, 浙江大力提升自主创新能力, 壮大实体经济根基, 塑造产业竞争新优势, 通过实施一系列惠企政策提高企业效率, 扩大社会财富总量, 为实现共同富裕提供了物质前提。③贯彻落实协调发展、共享发展理念, 通过加强土地流转并运用数字化技术大规模发展种植养殖业等, 完善农村分配, 实现农民增收, 缩小城乡收入差距。④兼顾效率与公平, 履行好政府再分配调节职能, 发挥了财政促进社会公平的作用, 促进区域协调发展, 扎实推进基本公共服务均等化。⑤浙江建立健全“先富带后富”机制, 既落实分配政策, 又提倡奉献精神, 既鼓励创业致富, 又倡导回报社会, 发挥第三次分配的作用。

(2) ①通过民主选举, 选出代表人民意志的人进入决策机关, 参与、审议、监督、制定收入分配改革方案, 是使改革措施能够反映最广大人民根本利益的重要保证; (3 分)

②信息是决策的基础, 民意是正确决策的重要信息资源, 决策机关要拓宽民意反映渠道, 科学决策、民主决策, 争取更多群众对改革措施的理解和支持; (3 分)

③改革政策的制定必须本着对人民负责的原则, 使最广大的人民群众从改革中受益, 提高广大人民群众对改革措施的满意度; (3 分)

④要让更多群众满意, 深化收入分配改革必须坚持党的领导、人民当家作主和依法治国的统一, 确保改革沿着正确的方向前进。(3 分)

40. ①生产决定消费, 推动供给侧结构性改革, 促进经济高质量发展, 提升供给体系对国内需求的适配性, 形成需求牵引供给、供给创造需求的更高水平动态平衡, 为消费结构优化升级创造条件。②消费对生产具有反作用, 要增强消费对经济发展的基础性作用, 坚持扩大内需。调节收入分配缩小收入差距能够刺激消费需求。③提振消费与扩大投资有效结合、相互促进。加快新基建建设加大基础研究投入, 扩大投资需求拉动经济增长。④处理好市场与政府的关系, 优化营商环境, 建设现代市场体系打通生产、分配、交换、消费的各个环节, 促进资源优化配置、促进生产发展、达成供需匹配。⑤新发展格局决不是封闭的国内循环, 而是开放的国内国际双循环。要建设多元平衡、安全高效的全面开放体系, 发展更高层次的开放型经济, 更好利用全球资源和市场, 也为其他国家提供更加广阔的市场。

### 历史部分

24. D 三星堆与黄河流域、成都金沙遗址出土的文物具有相似性, 说明不同地区的中华文明具有多元

体的特征,故 D 正确;跨区域间文化交流频繁、社会等级分化初步显现均不材料主旨,仅靠考古发掘也不一定如如实还原历史,所以排除 A、B、C。

25. A 根据材料可知,商周时期的国君因为暴虐无道而被国人放逐,这说明这一时期国君的权力是受到限制的,体现了早期原始民主,所以 A 正确;材料没有体现权力是否高度集中,所以 B 错误,周厉王暴戾无道,C 与材料大意相违背,排除 C,春秋战国时期宗法制逐渐崩溃,且材料内容与宗法制无关,所以 D 错误。

26. B 材料“今陕西到山东的许多地区”是西周的主要统治区域,受周文化的影响较深,所以《风》的文化风格较为一致,而楚国位于南方地区,并非西周统治的主要区域,所以《楚辞》的地域性较强,B 项正确;《诗经》是现实主义表现手法,《楚辞》是浪漫主义手法,虽有差异,但与材料所强调的“一致性”、“地域性”没有关系,所以 A 选项错误;分封制在周王室统治区域内影响并不能导致地域间的文化差异,排除 C 项;西周时期南北方经济活动方式都以农业为主,排除 D 项。

27. A 据材料“井田废、阡陌开”“使各诸侯国君经常处于亡国丧身的危机之中”等信息可知,随着生产关系的变革和生产力的提升,兼并战争频繁,传统政治秩序难以维系,这表明此时的社会转型步伐加快,A 项正确;B、C 选项只能反映材料后半部分信息,而不能反映材料全貌,非最佳选项,故排除。材料没有反映重农抑商的经济政策,排除 D 项。

28. B 根据材料可知,虽然不同的史料关于芍陂记述有不同,但三则材料都记载了关于楚国兴修芍陂的信息,故 B 项正确;第一则和第三则材料都没有记载芍陂修成后的结果,故不能推出 A 选项,二手史料也不一定就不可信,故排除 C 选项,材料一、三没有反映后世对芍陂的维修,故排除 D 选项。

29. D 材料反映了秦划界故意打破山川形便,目的是为了地方势力借岭南地理屏障割据叛乱,加强中央对地方的控制,故 D 正确;推动文化交流是客观结果,非主观目的,故排除 A,材料与开发岭南地区的经济无关,B 排除;材料中对岭南地区的划分反映了犬牙交错的特点,但不是主要目的,排除 C 选项。

30. C 结合所学知识可知,诸侯是否有不轨行为直接影响到其能否使用金缕玉衣,体现出汉武帝对地方控制的加强,可以说明地方势力被有效削弱,C 项正确;材料不能反映郡县制基础被动摇、思想上的大一统和官营手工业技术发达故,可以排除 A、B、D 项。

31. C “向往清静无为、回归自然”和“清议”内化为文士的一种生活方式,是士人对当时社会动荡局势的两种较为极端的反应,说明社会动荡对士人刺激较大,故答案为 C 项;虽然魏晋时期佛道思想的传入冲击了儒学,但是没有动摇儒学正统地位,且非材料主旨,排除 A 项;材料现象与民族交融的加强无关,故排除 B 选项,当时世家大族没有提倡这样的生活方式,排除 D 项。

32. B 根据漫画中的图片以及配文可知,漫画主要是在表达中国对于美国入侵朝鲜的态度,其主要寓意在于反对霸权主义,维护地区和平,B 正确;新中国成立标志着社会主义阵营的形成,故构建社会主义阵营不符合材料,排除 A;题干中未涉及到反法西斯战争,排除 C;朝鲜战争属于局部热战,故 D 选项错误,排除。

33. A 根据图示表格中的数据可以看出,从 1950 年到 1957 年,我国的进出口贸易总额在不断增长,说明新中国成立后突破西方国家的经济封锁,故选 A 项;一五计划完成后我国初步建立了社会主义工业化,而不是完成了社会主义工业化,排除 B 项;全方位对外开放是改革开放新时期,不符合材料时间,排除 C 项;根据贸易额度的变化看不出与苏联外交政策的调整,排除 D 项。故选 A 项。

34. C “大豆过江”明显属于过分夸张,根据“1958 年”并结合所学可知该漫画反映的是大跃进时期的浮夸风盛行,是社会主义建设探索中的失误,故选 C;漫画反映的是大跃进,追求生产力的高速度,没有体现农业生产关系的调整,排除 A;“一五”计划在 1957 年就已经完成,排除 B;材料不能反映城乡差别的根本改变,排除 D。

35. D 材料反映了红豆企业从 1992 年开始势头好转,结合所学可知,1992 年中共十四大提出建立社会主义市场经济体制的改革目标,我国改革开放不断深化,推动国内经济环境不断优化,促进了国内企业的发展,D 项正确;材料无法反映产业结构的调整,排除 A 项;社会主义市场经济体制建立是在 21 世纪初期,与材料时间不符,排除 B 项;人们消费观念发生变化只是影响企业发展的因素之一,但不是企业好转的主要原因,排除 C 项。

41. (1) 特点:高度重视边疆治理;具有历史继承性,在继承中创新;因地制宜,因俗而治;始终在“大一统”思想的指导下推行边疆政策。(6 分,每点 2 分,任答 3 点)

意义:有利于加强中央对地方的管理(或加强了中央集权);扩大了中央政府的有效统治范围;推动了边疆地区与内地的共同发展;促进了民族间的交融,增强民族认同感。(6 分,每点 2 分,任答 3 点)

(2) 制度:民族区域自治制度。(1 分)

评析:民族区域自治制度是基于中国历史原因和现实状况而设立的,从历史因素看,中华民族长期以来是统一多民族国家,中华文明是各民族共同创造的;从现实因素看,呈现各民族大杂居、小聚居的局面;为了推动各民族共同发展、体现民族平等。(6 分)

该制度的实施实现了少数民族当家作主的愿望;保证了祖国统一和民族团结,促进民族地区的经济发展和社会进步;体现了新中国成立后国家治理体系的完善、治理能力的提升和社会主义制度的优越性。(6 分)

42. 分卷书名:早期中华帝国:秦与汉(1 分)

简介:秦汉时期是中国历史上第一个大一统的时期,是中华文明的形成和发展时期,孕育出早期中华帝国。(1 分)政治上,秦朝统一后结束了春秋战国以来长期分裂割据的局面,确立了专制主义中央集权制度。汉承秦制,专制主义中央集权制度逐渐完善。(3 分)经济上,精耕细作的小农经济不断发展。丝绸之路的开辟,促进了中外经济文化的交流。(3 分)思想文化上,汉武帝“罢黜百家,独尊儒术”,使儒家思想成为封建社会的正统思想,促进了思想大一统局面的形成,文化、科技也得到发展,呈现出大一统气象。(3 分)

综上所述,秦汉时期是中华文明的形成和初步发展阶段,秦汉时期所取得的成就奠定了早期中华帝国的基础。(1 分)

示例 2:

分卷书名:最后的中华帝国:大清

简介:清朝处于中国封建社会晚期,是中华帝国的最后一个阶段。清朝时期,加强了对内陆和边疆地区的统治,国家版图辽阔,极大地巩固了封建政权。雍正年间用兵西北,因军事需要设立军机处,标志着君主专制达到顶峰。与此同时,清朝时期农耕经济得到快速发展,经济作物种植面积扩大,高产农作物的引进,促进了粮食的大量增加和人口的增长,也促进了商品经济的飞速发展和资本主义萌芽的出现,推动了社会经济发展和进步。但专制集权空前强化不利于中国社会的转型,随着西方列强的入侵,中华帝国被迫艰难地向近代转型。

综上所述,大清时期创造了高度发达的社会经济,专制统治极大加强,是中华帝国的最后阶段。

44. (1) 背景:国家分裂战乱频繁;南北交流、民族融合;思想氛围相对自由,文化繁荣。(7 分)

(2) 品质:不屈不挠追求真理的精神;渴望祖国统一的家国情怀;严谨、科学的治学方法;注重传承传统文化;注重探究和实践的科学精神。(8 分,每点 2 分,任答 4 点)